

Jméno a příjmení:

Datum:

MAPA KRIMINALITY – (NE)BEZPEČNÁ ÚZEMÍ

PRACOVNÍ LIST PRO ŽÁKY

CÍL HODINY:

V této hodině se naučíš používat webovou aplikaci Mapa kriminality. Naučíš se pojmy, týkající se trestných činů a zjistíš informace o kriminalitě např. v oblasti, kde bydlíš.

VYPRACOVÁNÍ:

1. Před samotným pracovním listem si zopakujeme pojmy, se kterými budeme pracovat. Spoj vybrané pojmy a jejich definice:

KRIMINALITA

územní celek, v němž dochází k měření kriminality

TRESTNÝ ČIN

čin (skutek), který porušuje zákon (vražda, loupež, úmyslné ublížení na zdraví, vydírání, znásilnění, žhářství, týrání zvířat, šíření poplašné zprávy, ...)

INDEX KRIMINALITY

registrovaný skutek, u kterého byl zjištěn (a vykázán) alespoň jeden známý pachatel a zároveň je skutek ukončen ve sledovaném období

OBVODNÍ ODDĚLENÍ

zločinnost, trestná činnost (porušení zákonů, protiprávní jednání)

OBJASNĚNOST TRESTNÉHO ČINU

počet zjištěných skutků za zvolené období, přepočtený na 10 000 obyvatel

2. Otevři si webovou stránku <https://www.mapakriminality.cz/#mapa>.

3. Najdi v mapě svou školu (zadej do vyhledávače adresu školy)

Adresa školy:.....

**T A
Č R**

Tento projekt je spolufinancován se státní podporou Technologické agentury ČR v rámci Programu ETA.

www.tacr.cz
Výzkum užitečný pro společnost.

**MUNI
PED**

**MUNI
SCI**



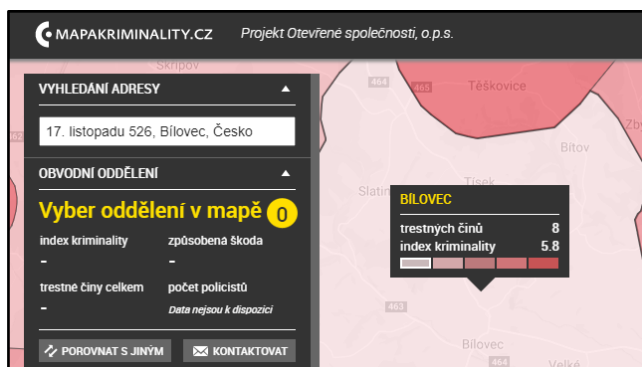
Přírodovědecká
fakulta

MAPA KRIMINALITY – (NE)BEZPEČNÁ ÚZEMÍ

PRACOVNÍ LIST PRO ŽÁKY

4. Podle místa školy vyber v mapě „Oddělení“. V jakém obvodním oddělení se nachází tvá škola?

Obvodní oddělení:.....



Např. Gymnázium Mikuláše Koperníka v Bílovci je v Obvodním oddělení "Bílovec". Ujisti se, že máš v mapě aktivní jednotky "Obvodní oddělení".



OTÁZKA 1:

Znalost o místě a čase trestných činů pomáhá policistům např. při plánování preventivních opatření jako počet hlídkujících strážníků. Ve kterém měsíci bylo v roce 2020 v oddělení, v němž se nachází tvá škola, zjištěných trestných činů nejvíc? A v kterém naopak nejméně?

ODPOVĚĎ:

Nejvíc trestných činů:

Nejméně trestných činů:

Nápověda: Pro zobrazení mapy podle měsíců použij časovou osu ve spodní části obrazovky (PC).

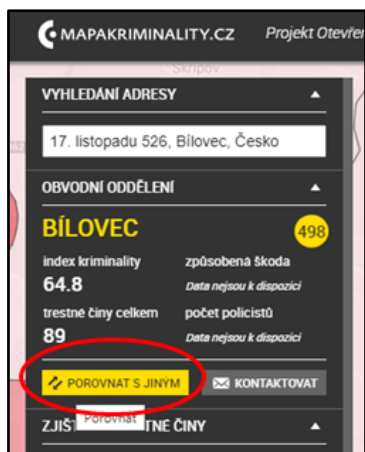


5. V levém sloupci najdi záložku „Porovnat s jiným“ a otevři ji. Ve srovnání, které se otevřelo v dolní polovině obrazovky (PC) zvol „Vyber obvodní oddělení“ a vyber oddělení tvého bydliště/okresního města/sousedního města/...

Druhé obvodní oddělení:.....

MAPA KRIMINALITY – (NE)BEZPEČNÁ ÚZEMÍ

PRACOVNÍ LIST PRO ŽÁKY



6. Základní metrikou porovnání je tzv. **index kriminality**. Index kriminality udává počet zjištěných trestných skutků za určité časové období přepočtený na 10 000 obyvatel. Pokud se data přepočítávají na jiný ukazatel (počet obyvatel, plochu, ...), lze využít pro srovnání prostorových jednotek metodu různě barevných ploch (tzv. kartogram).

OTÁZKA 2:

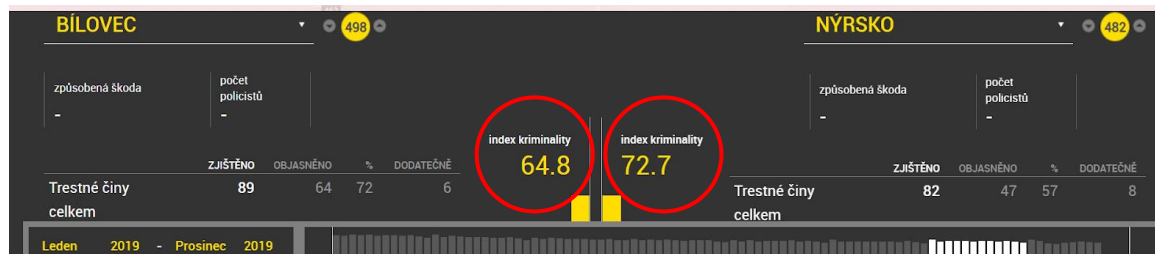
Který index kriminality je vyšší? Oddělení, ve kterém se nachází tvá škola? Jaké je to číslo?

ODPOVĚĎ:

Index kriminality

Oddělení 1

Oddělení 2:



OTÁZKA 3:

Informace o trestných činech jsou poskytovány každý měsíc Policií ČR, jedná se tedy o oficiální policejní statistiky. Ve kterém oddělení bylo ve zvoleném období objasněno více trestných činů (%)?

ODPOVĚĎ:

Objasněnost

Oddělení 1:

%

Oddělení 2:

%

MAPA KRIMINALITY – (NE)BEZPEČNÁ ÚZEMÍ

PRACOVNÍ LIST PRO ŽÁKY



OTÁZKA 4:

Jaké jsou nejčastější trestné činy ve vybraných odděleních?

ODPOVĚĎ:

Oddělení 1:

Oddělení 2:

OTÁZKY NA ZÁVĚR:

Napadá tě, proč má Oddělení 1, resp. 2 vyšší index kriminality?

Proč tomu tak je, že v centru města je nejvyšší index kriminality?

Liší se typy trestných činů ve městě a na vesnici (Např. Praha X Hnojník)?

Dokážeš na základě indexu kriminality např. Územních odborů identifikovat některé periferní oblasti ČR? Proč je v těchto místech kriminality vyšší?

MAPA KRIMINALITY – (NE)BEZPEČNÁ ÚZEMÍ

PRACOVNÍ LIST PRO ŽÁKY

ÚKOL PRO ZVÍDAVÉ:

Zkus zjistit, ve kterém územní odboru a kraji byl **index kriminality** za rok 2019 (všech 12 měsíců) nejnižší. Ve kterém územním odboru je procento **objasněných trestných činů** v roce 2019 (všech 12 měsíců) nejvyšší? Jaká jsou to čísla?

Nejnižší index kriminality

Kraj:

Územní odbor:.....

Nejvyšší objasněnost trestných činů

Kraj:.....

Územní odbor:.....

Nápověda: Použij vpravo nahoře záložku „Tabulky“ a pohraj si s řazením hodnot podle určitého ukazatele

		ZJIŠTĚNO		OBJASNĚNO		DODATEČNĚ	
#	KRAJ	POČET	INDEX	POČET	%	POČET	
1	PRAHA I.	13220	642.1	2758	21	549	
2	PRAHA II.	10024	447.7	2476	25	615	
3	PRAHA III.	11854	333.4	2912	25	694	
4	PRAHA IV.	14448	321.3	2944	20	771	
5	BENEŠOV	1235	126.8	527	43	96	
6	BEROUN	1454	170.8	517	36	129	
7	KLADNO	2872	182.8	1440	50	233	
8	KOLÍN	1408	135.6	749	53	116	
9	KUTNÁ HORA	896	120.8	373	42	51	
10	MĚLNÍK	1648	158.9	755	46	124	